

ՄԱԹԵՄԱՏԻԿԱ 6

Գործնական աշխատանք № _____

(10 միավոր)

Ամսաթիվը _____

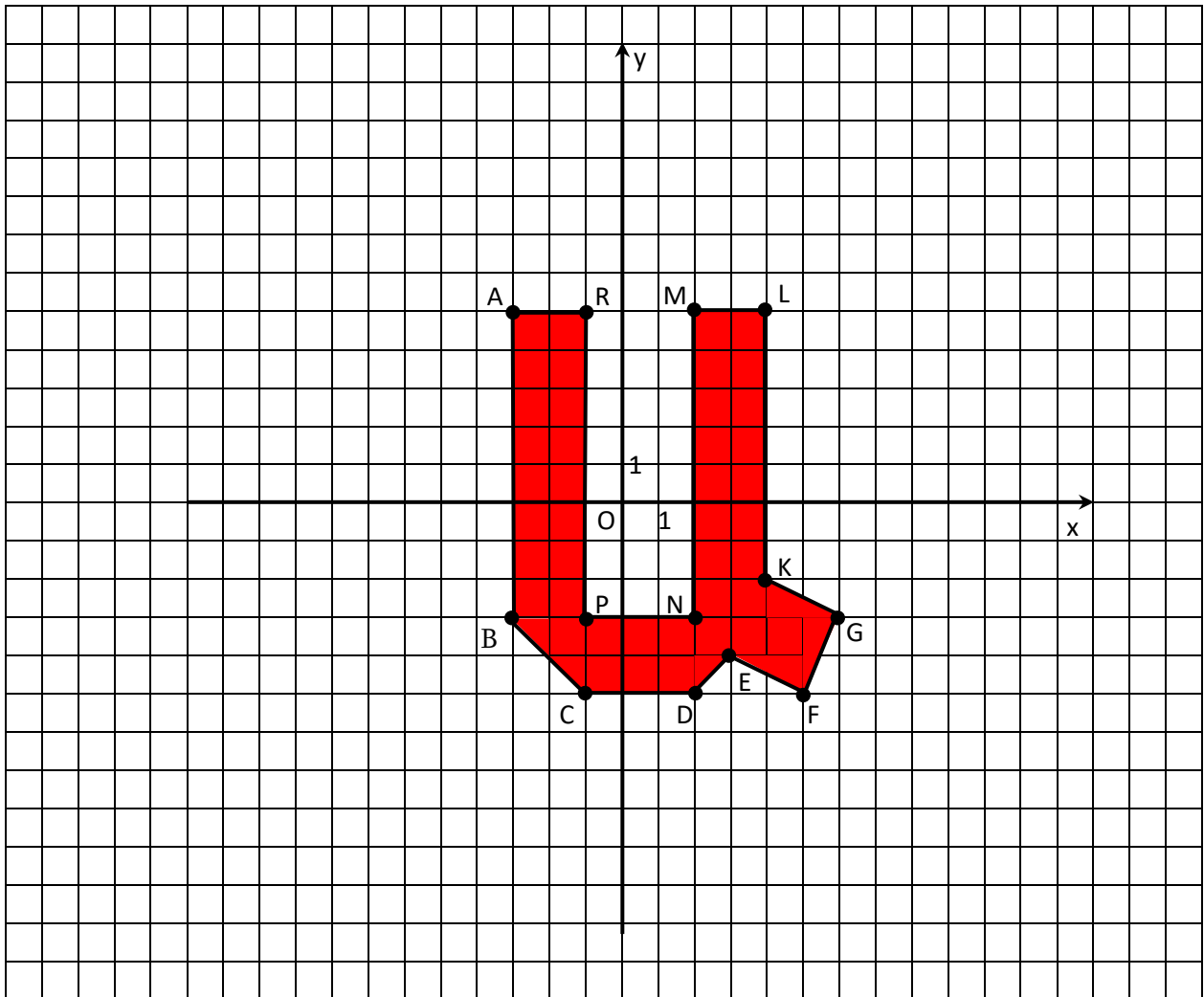
Ազգանուն, անուն _____

Առաջադրանք 1. Կոորդինատային հարթության վրա կառուցել $A(-3; 5)$, $B(-3; -3)$, $C(-1; -5)$,

$D(2; -5)$, $E(3; -4)$, $F(5; -5)$, $G(6; -3)$, $K(4; -2)$, $L(4; 5)$, $M(2; 5)$, $N(2; -3)$, $P(-1; -3)$, $R(-1; 5)$ կետերը:

Ստացված կետերը միացնել իրար նշված հաջորդականությամբ՝ $A, B, C, D, E, F, G, K, L, M, N, P, R$ և A : Ստացված պատկերը ներկել որևէ գույնով:

/4 միավոր/



ՄԱԹԵՄԱՏԻԿԱ 6

Գործնական աշխատանք № _____

(10 միավոր)

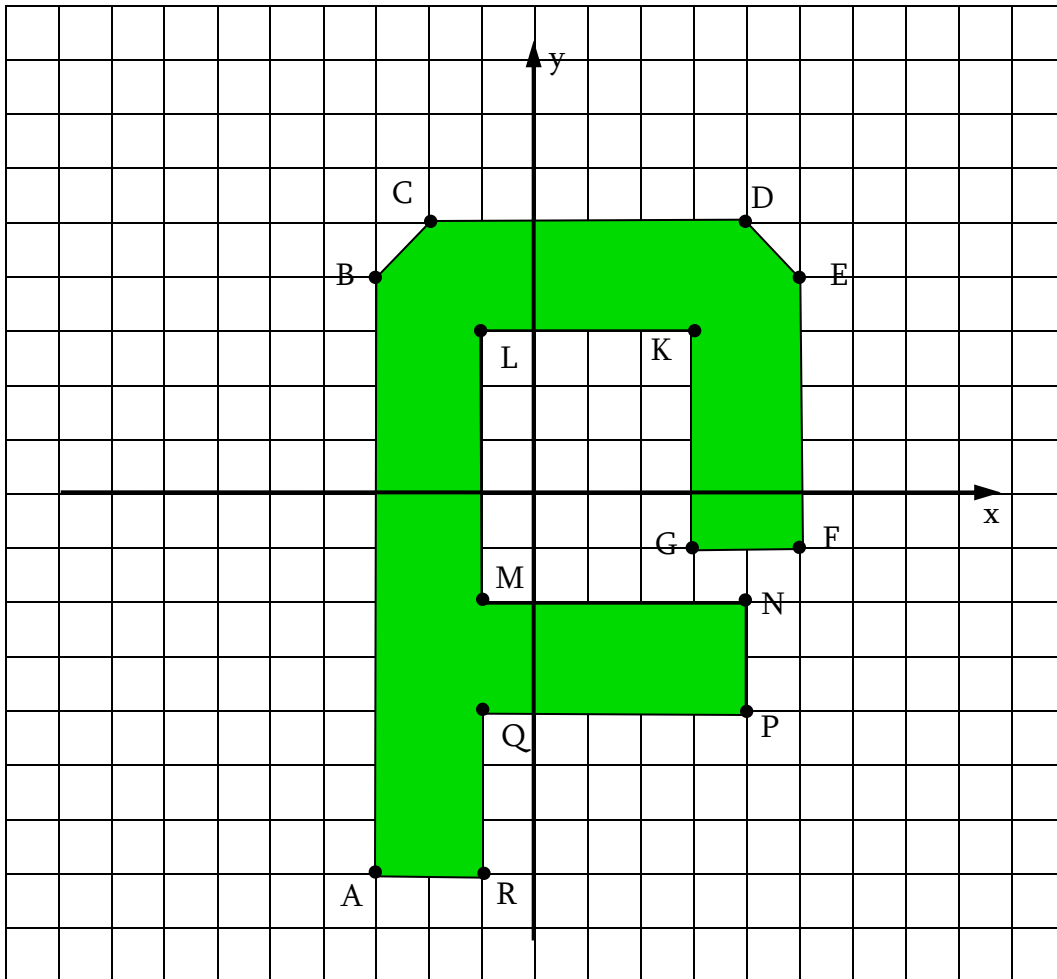
Ամսաթիվը _____

Ազգանուն, անուն _____

Առաջադրանք 1. Կոորդինատային հարթության վրա կառուցել $A(-3; -7)$, $B(-3; 4)$, $C(-2; 5)$,

$D(4; 5)$, $E(5; 4)$, $F(5; -1)$, $G(3; -1)$, $K(3; 3)$, $L(-1; 3)$, $M(-1; -2)$, $N(4; -2)$, $P(4; -4)$, $Q(-1; -4)$, $R(-1; -7)$ կետերը: Ստացված կետերը միացնել իրար նշված հաջորդականությամբ՝ $A, B, C, D, E, F, G, K, L, M, N, P, Q, R$ և A : Ստացված պատկերը ներկել որևէ գույնով:

/4 միավոր/



ՄԱԹԵՄԱՏԻԿԱ 6

Գործնական աշխատանք № _____

(10 միավոր)

Ամսաթիվը _____

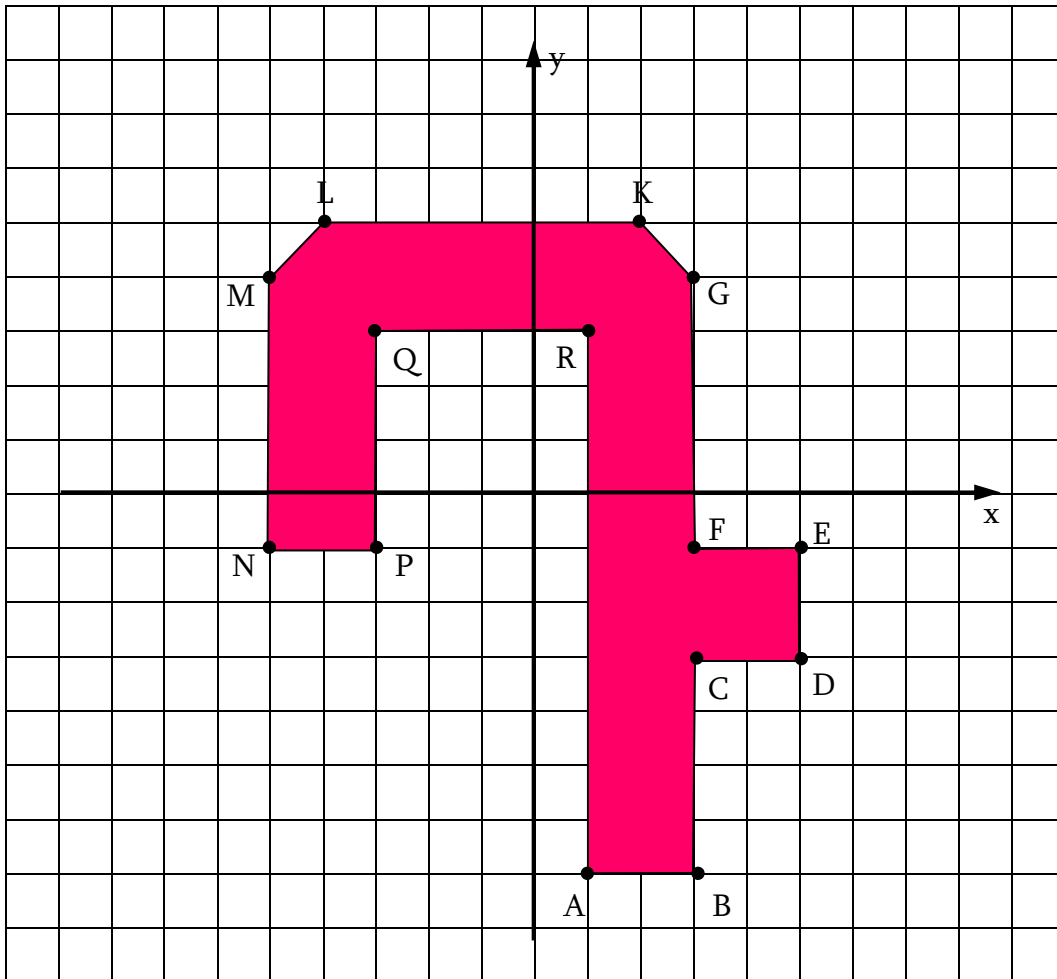
Ազգանուն, անուն _____

Առաջադրանք 1. Կոորդինատային հարթության վրա կառուցել $A(1; -7)$, $B(3; -7)$, $C(3; -3)$,

$D(5; -3)$, $E(5; -1)$, $F(3; -1)$, $G(3; 4)$, $K(2; 5)$, $L(-4; 5)$, $M(-5; 4)$, $N(-5; -1)$, $P(-3; -1)$, $Q(-3; 3)$, $R(1; 3)$

կետերը: Ստացված կետերը միացնել իրար նշված հաջորդականությամբ՝ $A, B, C, D, E, F, G, K, L, M, N, P, Q, R$ և A : Ստացված պատկերը ներկել որևէ գույնով:

/4 միավոր/



ՄԱԹԵՄԱՏԻԿԱ 6

Գործնական աշխատանք №3

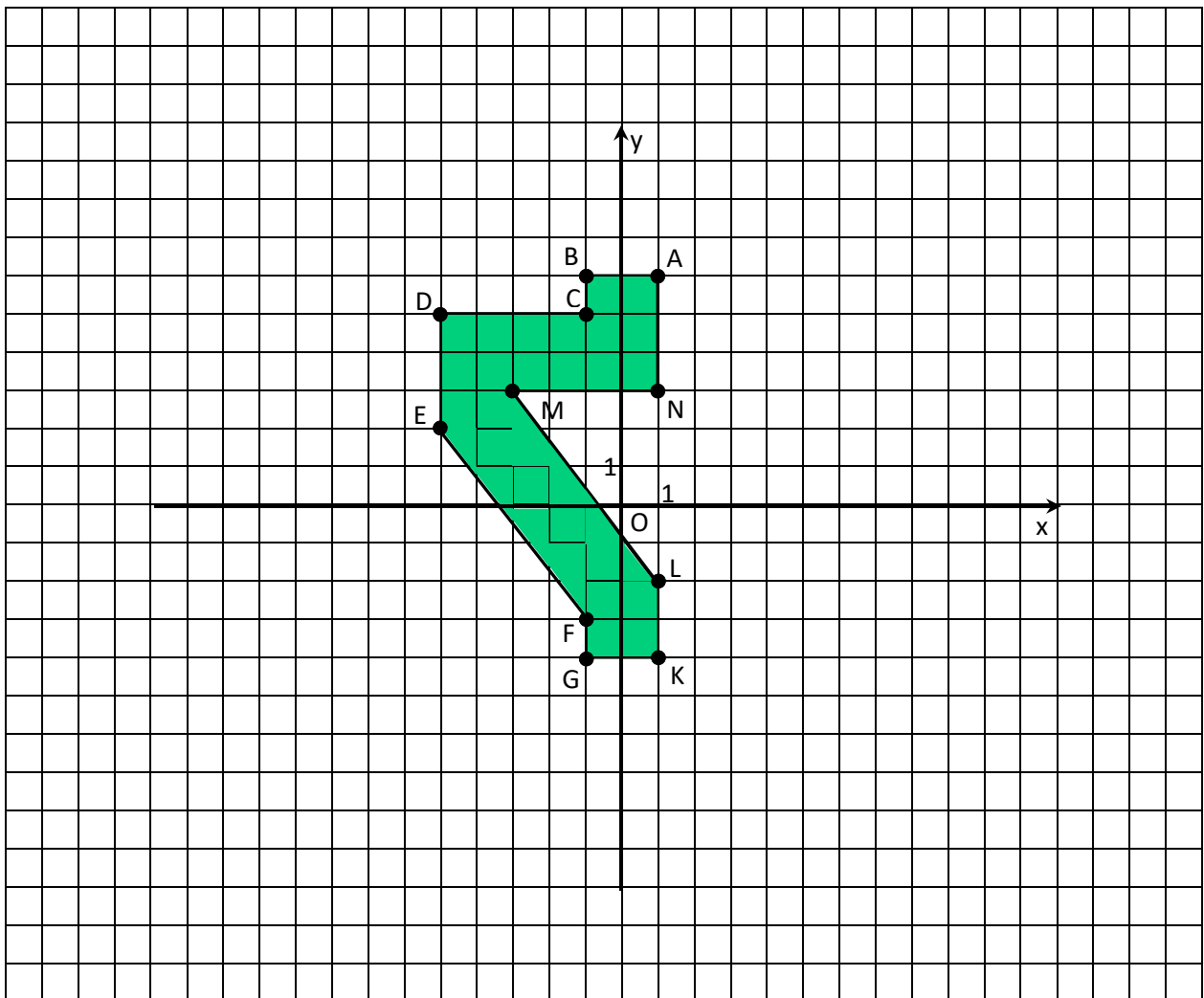
Անսաթիվը _____

Ազգանուն, անուն _____

Առաջադրանք 1. Կոորդինատային հարթության վրա կառուցել $A(1; 6)$, $B(-1; 6)$, $C(-1; 5)$,

$D(-5; 5)$, $E(-5; 2)$, $F(-1; -3)$, $G(-1; -4)$, $K(1; -4)$, $L(1; -2)$, $M(-3; 3)$, $N(1; 3)$ կետերը: Ստացված կետերը միացնել իրար նշված հաջորդականությամբ՝ $A, B, C, D, E, F, G, K, L, M, N$ և A : Ստացված պատկերը ներկել որևէ գույնով:

/4 միավոր/



ՄԱԹԵՄԱՏԻԿԱ 6

Գործնական աշխատանք №3

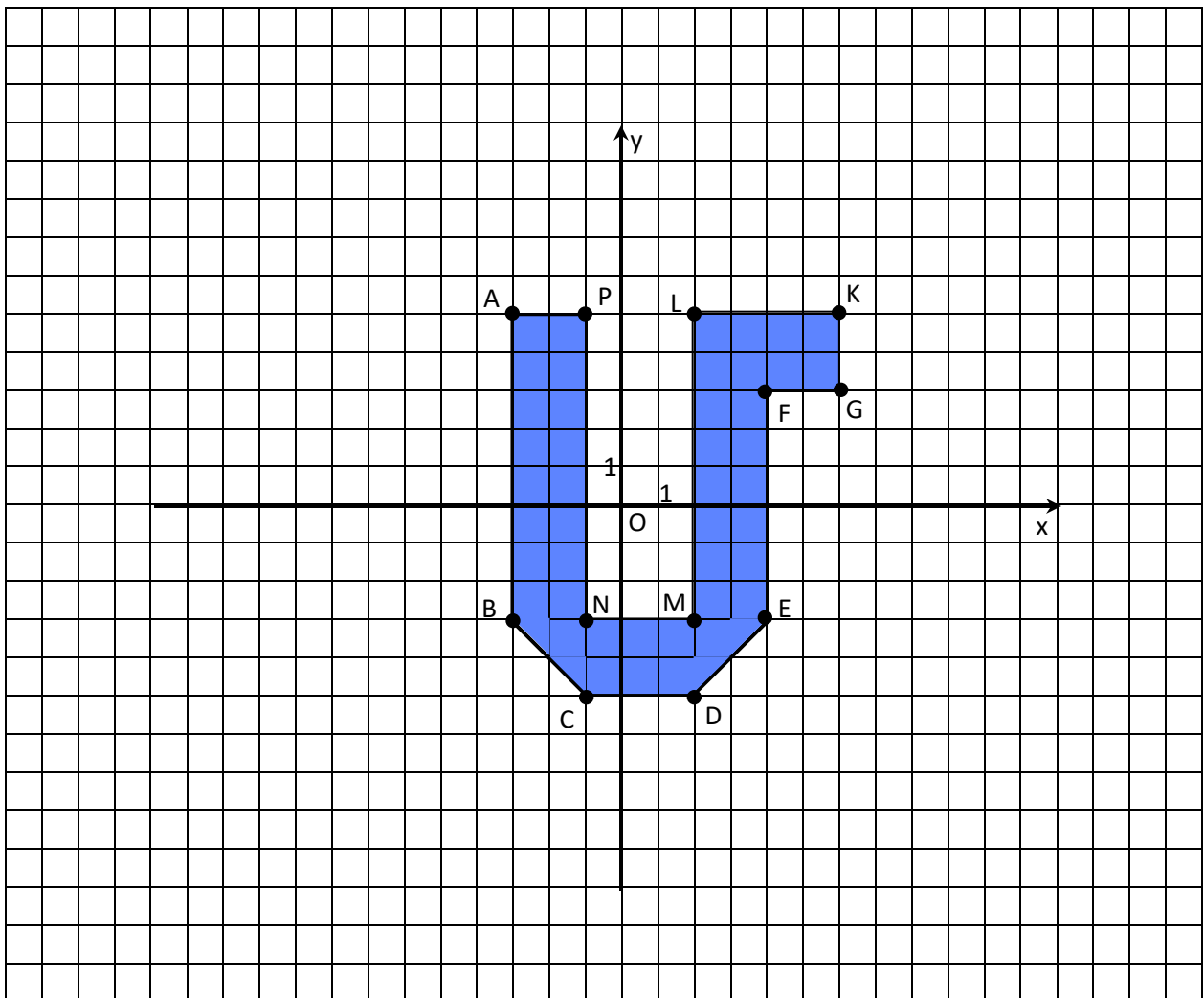
Անսաթիվը _____

Ազգանուն, անուն _____

Առաջադրանք 1. Կոորդինատային հարթության վրա կառուցել $A(-3; 5)$, $B(-3; -3)$, $C(-1; -5)$,

$D(2; -5)$, $E(4; -3)$, $F(4; 3)$, $G(6; 3)$, $K(6; 5)$, $L(2; 5)$, $M(2; -3)$, $N(-1; -3)$, $P(-1; 5)$ կետերը: Ստացված կետերը միացնել իրար նշված հաջորդականությամբ՝ $A, B, C, D, E, F, G, K, L, M, N, P$ և A : Ստացված պատկերը ներկել որևէ գույնով:

/4 միավոր/



ՄԱԹԵՄԱՏԻԿԱ 6

Գործնական աշխատանք №3

Անսաթիվը _____

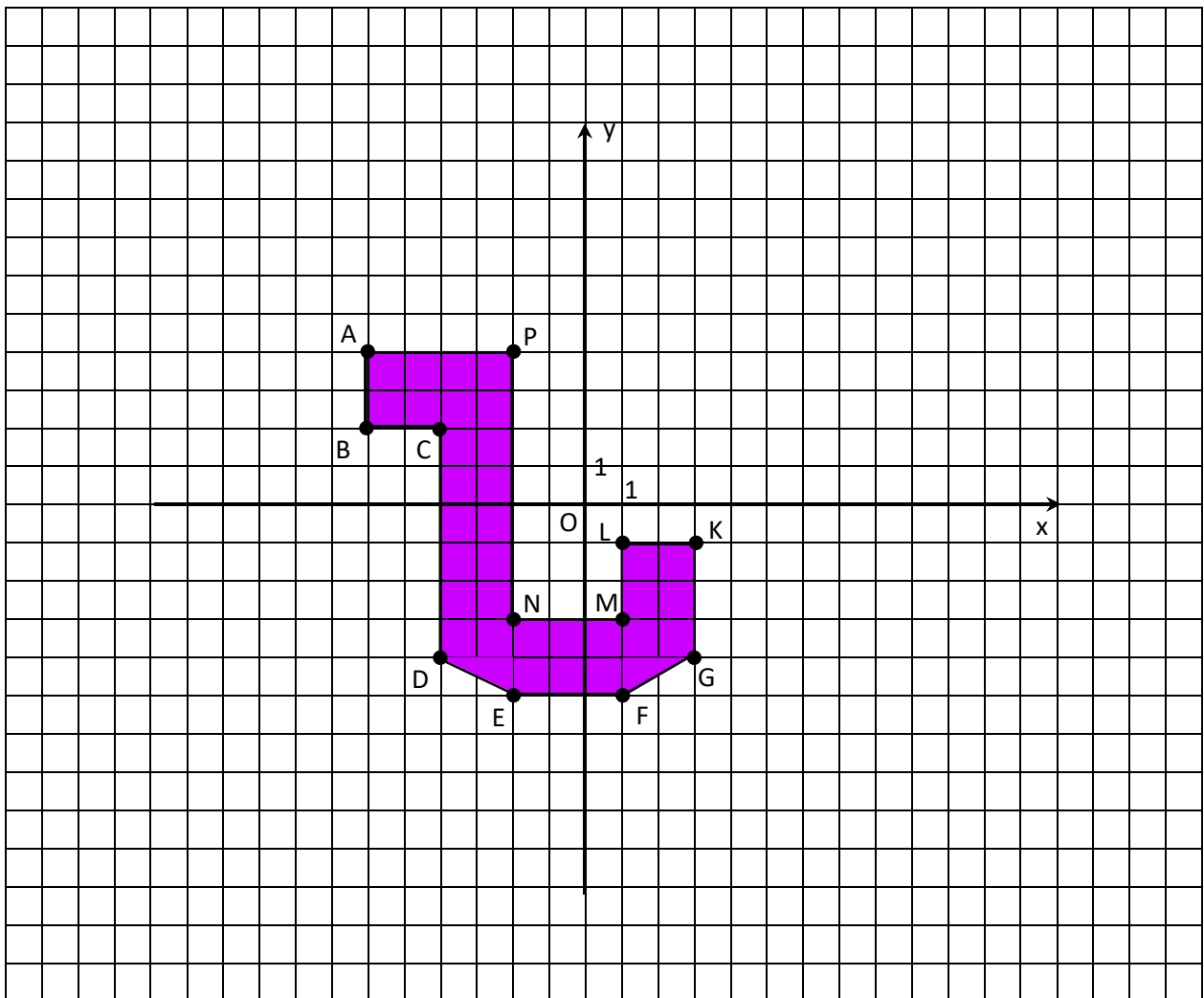
Ազգանուն, անուն _____

Առաջադրանք 1. Կոորդինատային հարթության վրա կառուցել $A(-6; 4)$, $B(-6; 2)$, $C(-4; 2)$,

$D(-4; -4)$, $E(-2; -5)$, $F(1; -5)$, $G(3; -4)$, $K(3; -1)$, $L(1; -1)$, $M(1; -3)$, $N(-2; -3)$, $P(-2; 4)$ կետերը:

Ստացված կետերը միացնել իրար նշված հաջորդականությամբ՝ $A, B, C, D, E, F, G, K, L, M, N, P$ և A : Ստացված պատկերը ներկել որևէ գույնով:

/4 միավոր/



ՄԱԹԵՄԱՏԻԿԱ 6

Գործնական աշխատանք №3

Անսաթիվը _____

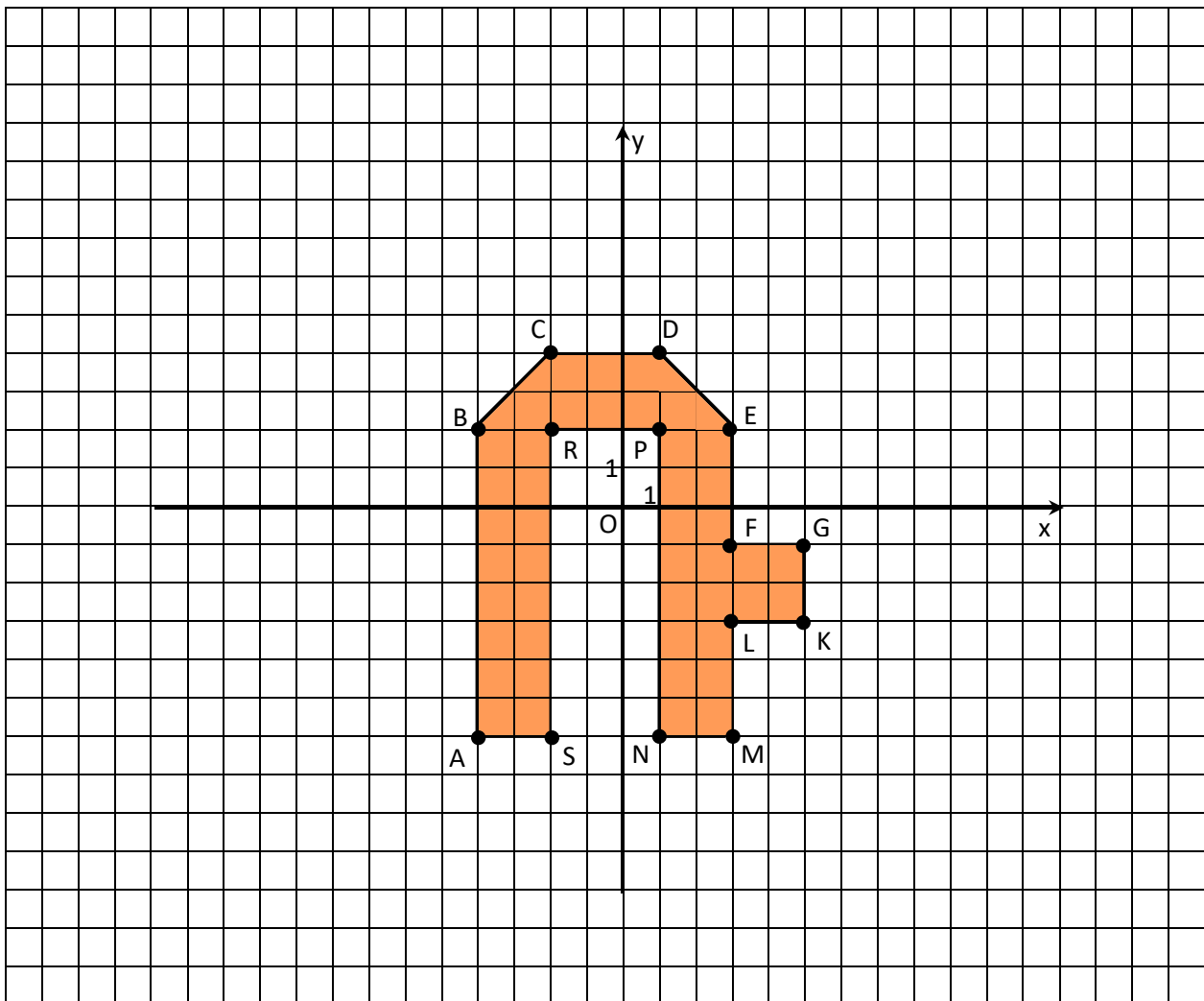
Ազգանուն, անուն _____

Առաջադրանք 1. Կոորդինատային հարթության վրա կառուցել $A(-4; -6)$, $B(-4; 2)$, $C(-2; 4)$,

$D(1; 4)$, $E(3; 2)$, $F(3; -1)$, $G(5; -1)$, $K(5; -3)$, $L(3; -3)$, $M(3; -6)$, $N(1; -6)$, $P(1; 2)$, $R(-2; 2)$, $S(-2; -6)$

կետերը: Ստացված կետերը միացնել իրար նշված հաջորդականությամբ՝ $A, B, C, D, E, F, G, K, L, M, N, P, R, S$ և A : Ստացված պատկերը ներկել որևէ գույնով:

/4 միավոր/



ՄԱԹԵՄԱՏԻԿԱ 6

Գործնական աշխատանք №3

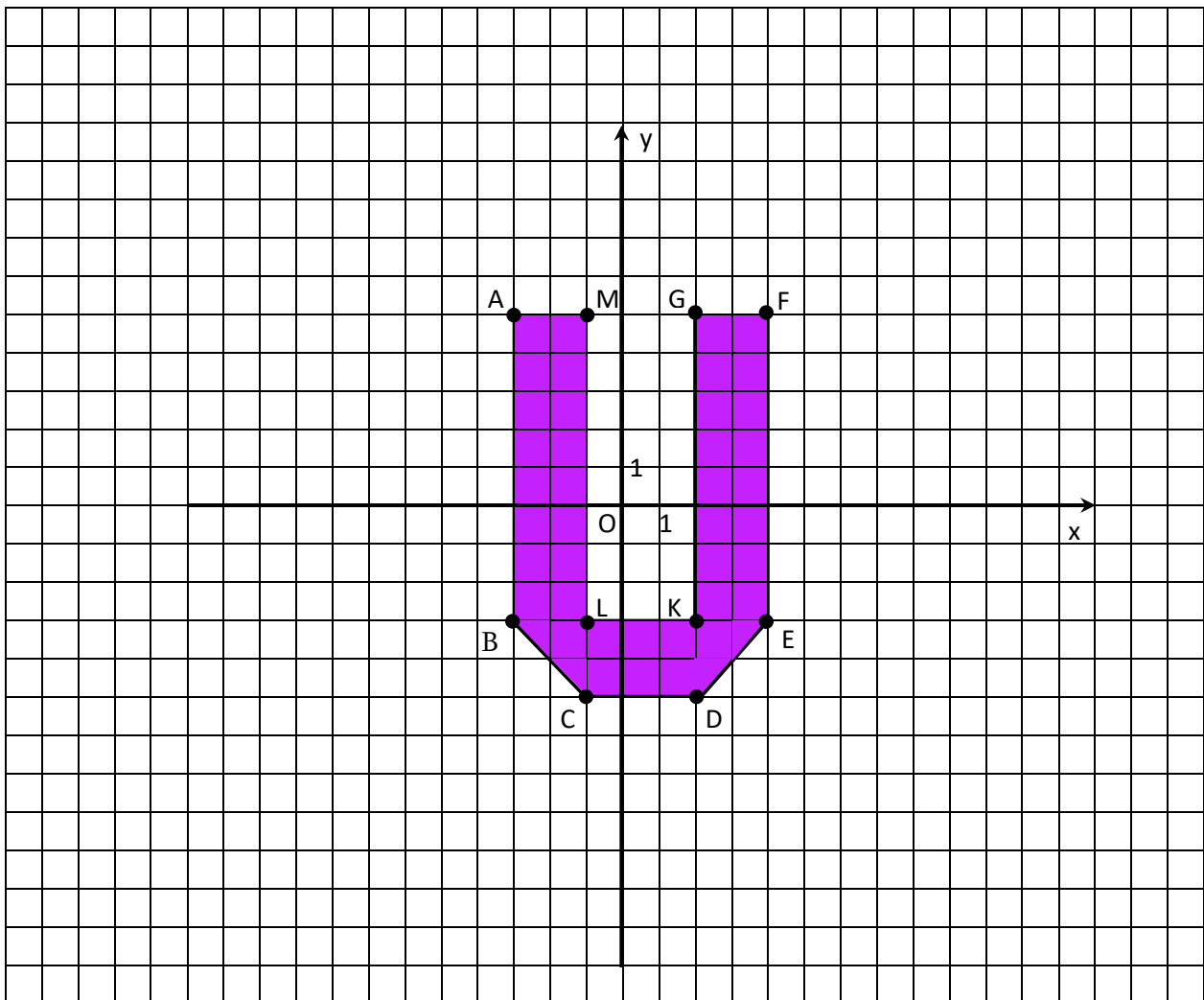
Անսաթիվը _____

Ազգանուն, անուն _____

Առաջադրանք 1. Կոորդինատային հարթության վրա կառուցել $A(-3; 5)$, $B(-3; -3)$, $C(-1; -5)$,

$D(2; -5)$, $E(4; -3)$, $F(4; 5)$, $G(2; 5)$, $K(2; -3)$, $L(-1; -3)$, $M(-1; 5)$ կետերը: Ստացված կետերը միացնել իրար նշված հաջորդականությամբ՝ $A, B, C, D, E, F, G, K, L, M$ և A : Ստացված պատկերը ներկել որևէ գույնով:

/4 միավոր/



ՄԱԹԵՄԱՏԻԿԱ 6

Գործնական աշխատանք № 3

Անսաթիվը _____

Ազգանուն, անուն _____

Առաջադրանք 1. Կոորդինատային հարթության վրա կառուցել $A(-3; 5)$, $B(-3; 3)$, $C(-1; 2)$,

$D(2; 2)$, $E(2; -3)$, $F(6; -3)$, $G(6; -1)$, $K(4; -1)$, $L(4; 9)$, $M(2; 9)$, $N(2; 4)$, $P(-1; 4)$, $R(-1; 5)$ կետերը:

Ստացված կետերը միացնել իրար նշված հաջորդականությամբ՝ $A, B, C, D, E, F, G, K, L, M,$

N, P, R և A : Ստացված պատկերը ներկել որևէ գույնով:

/4 միավոր/

