

ՄԱԹԵՄԱՏԻԿԱ

2-րդ դասարան

Թեմա 5. Տվյալներ (5 ժամ)

Բովանդակություն

1. Տվյալներ
2. Սյունակային դիագրամ
3. Պնդումներ

1. Տվյալներ

★ Դասագիրք

Հովհաննիսյան Վ.Ա. և ուրիշն. Հանրակրթական դպրոցի 2-րդ դասարանի դասագիրք. 1-ին մաս.-Եր.: Արևիկ, 2020:

Էլեկտրոնային դասագրքի հղումը՝

<https://online.fliphtml5.com/fumf/bmee/#p=55>

Նյութը՝ էջ 54-55

Առաջադրանքներ՝ № 1-12

2. Սյունակային դիագրամ

★ Դասագիրք

Հովհաննիսյան Վ.Ա. և ուրիշն. Հանրակրթական դպրոցի 3-րդ դասարանի դասագիրք. 2-րդ մաս.-Եր.: Արևիկ, 2020:

Էլեկտրոնային դասագրքի հղումը՝

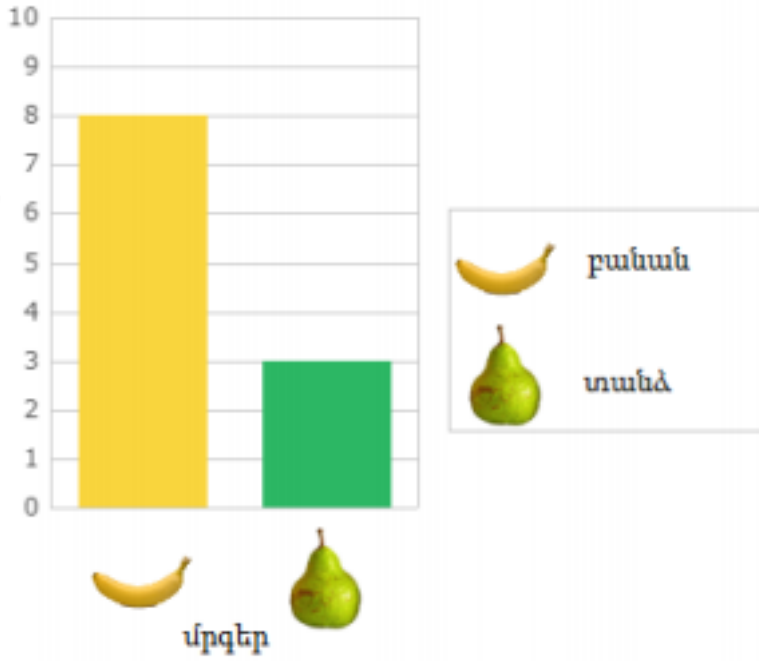
<https://online.fliphtml5.com/fumf/vsbj/#p=1>

Նյութը՝ էջ 60, 62

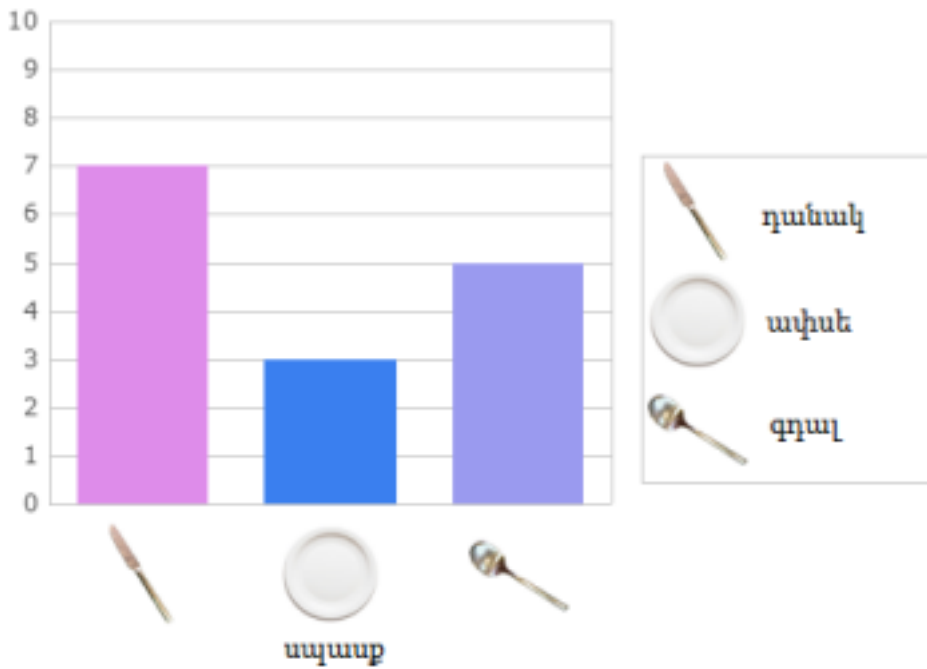
Առաջադրանքներ՝ № 789-791, 799

★ Լրացուցիչ նյութեր

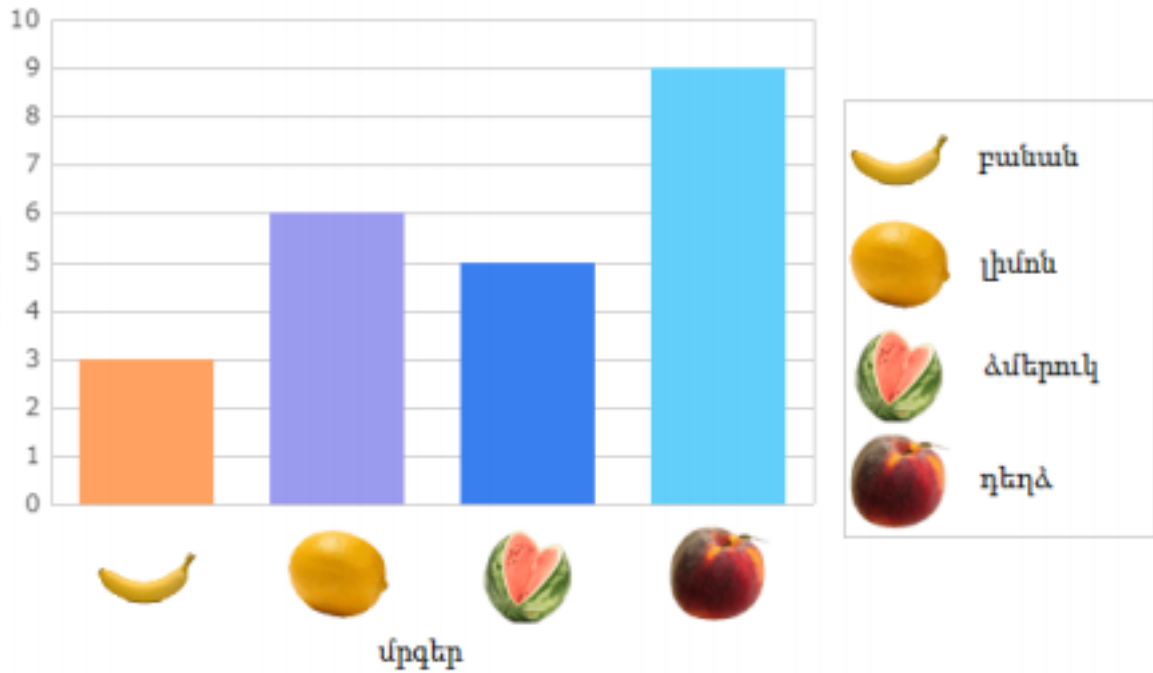
1. ա) Հայկը մրգի խանութից գնում է բանան և տանձ: Սյունակային դիագրամից օգտվելով՝ գտիր գնած բանանի քանակը:



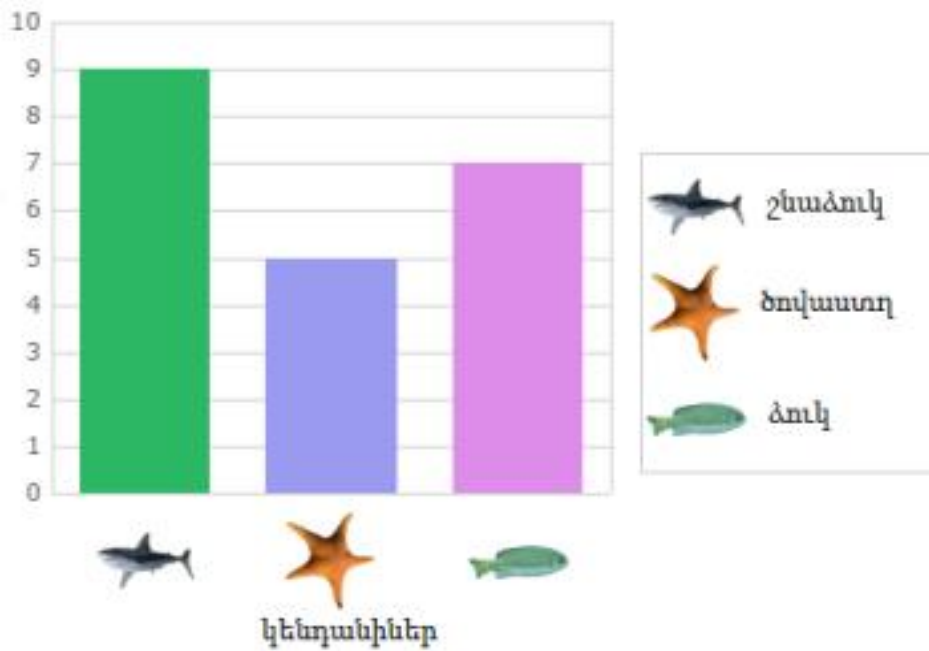
բ) Օգտվելով սյունակային դիագրամից՝ գտիր դանակի, ափսեի և գդալի քանակը:





գ) Սյունակային դիագրամից օգտվելով՝ ներկայացրու մրգերի քանակը:



դ) Սյունակային դիագրամում ներկայացված ո՞ր ծովային կենդանու քանակն է ավելի շատ:



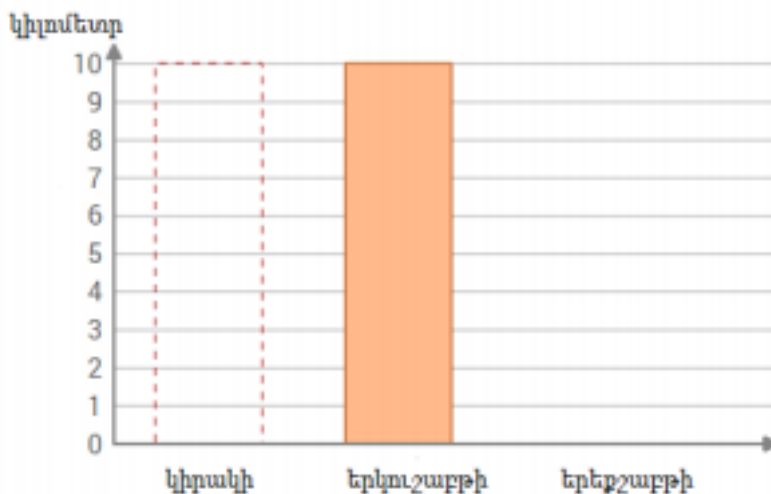
2. Անահիտը մտնում է ռեստորանի խոհանոց և այնտեղ տեսնում է 9 կետչուկի շիշ, 4 վառարանի ձեռնոց, 1 աղաման և 3 թավա: Տվյալները ներկայացնում է սյունակային դիագրամով: Ո՞ր դիագրամն է ճիշտ:



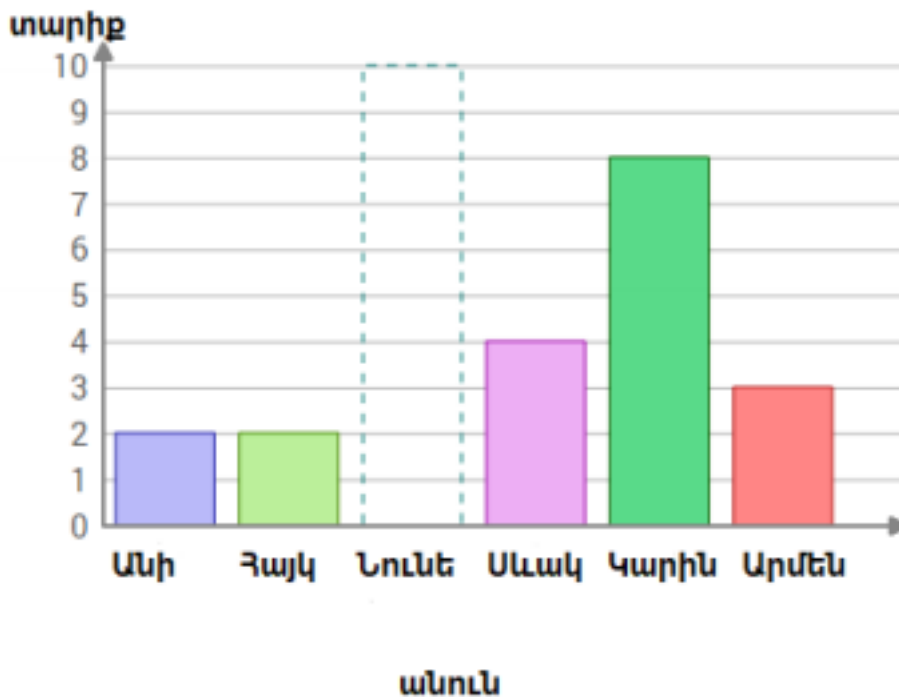
3. Լուսինեն փողոցում պատահականորեն մոտեցավ 16 մարդու և խնդրեց նշել իրենց սիրած բանջարեղենը: Հինգ հոգին ասացին՝ կաղամբ, յոթը՝ կարտոֆիլ, իսկ չորսը՝ եգիպտացորեն: Ո՞ր դիագրամն է ներկայացնում Լուսինեի հարցումը:



4. Պապիկն առավոտյան մարզանքներից հետո քայլում է զբոսայգում: Կիրակի օրը նա քայլեց 1 կմ, երկուշաբթի՝ 10 կմ, իսկ երեքշաբթի ընդհանրապես չքայլեց: Օգտագործելով տվյալները՝ լրացրու դիագրամը:



5. Անին և Ջայկը 2 տարեկան են, Նունեն՝ 9, Սևակը՝ 4, Կարինը՝ 8, Արմենը՝ 3: Նունեի տարիքը դիագրամում պատկերված չէ: Լրացրու այն, քանի որ դու արդեն գիտես Նունեի տարիքը:



✍ 3. Պնդումներ

★ Դասագիրք

Հովհաննիսյան և Վ.Ա. ուրիշն. Հանրակրթական դպրոցի 3-րդ դասարանի դասագիրք. 2-րդ մաս.- Եր.: Արևիկ, 2020:

Էլեկտրոնային դասագրքի հղումը՝

<https://online.fliphtml5.com/fumf/vsbj/#p=1>

Նյութը՝ էջ 52-54

Առաջադրանքներ՝ № 757-759, 762-765

★ Լրացուցիչ նյութեր

Տեսանյութ, անցանց առաջադրանքներ՝

<https://sovorir.am/site/category/id/211>

<https://www.imdproc.am/p/matematika/3-dasaran/tvyalner-datvoghutyunne-r-22341/chshmarit-voch-chshmarit-datvoghutyunner-22344>