


Աշխատանքային թերթիկ

Բույսի աճի արդյունքների ուսումնասիրություն


Անուն-ազգանուն _____

Ամիս-ամսաթիվ _____

Կարինեն և Մարիամը չափեցին Ա և Բ բույսերը և չորս շաբաթվա ընթացքում շաբաթը մեկ, գնեցին նրանց աճը:



Բույս Ա




Բույս Բ

Նրանք արդյունքները գրանցեցին:

	Շաբաթ 1		Շաբաթ 2		Շաբաթ 3		Շաբաթ 4	
	Բույս Ա	Բույս Բ	Բույս Ա	Բույս Բ	Բույս Ա	Բույս Բ	Բույս Ա	Բույս Բ
Բարձրությունը՝ սմ-ով	15	16	17	16	20	17	22.5	17
Տերևների քանակը	10	12	12	13	13	11	14	10
Ցողունի և տերևների գույնը	կանաչ	կանաչ	կանաչ	դժգույն կանաչ	կանաչ	դեղնականաչ	կանաչ	դեղին
Ընդհանուր տեսքը	առողջ, ամուր	առողջ	առողջ	բավական առողջ	առողջ, ամուր	անառողջ	առողջ, ամուր	անառողջ, թույլ

1 Գծիր երկու բույսերի՝ բարձրության աճի գծային գրաֆիկը:

Բարձրությունը՝ սմ-ով



Շաբաթներ



2 Ո՞ր բույսն է ավելի լավ աճել: Նշիր **երկու** եղանակ, որոնց տվյալները դա ցույց են տալիս:

3 Ըստ քեզ՝ ինչո՞ւ բույս Բ-ն չորս շաբաթ հետո ավելի քիչ տերևներ ուներ:

4 Ինչպե՞ս էր փոխվել բույս Բ-ի ցողունի ու տերևների գույնը: Բացատրիր պատճառը:

5 Արդյունքների հիման վրա եզրակացություն գրիր բույսի աճի վրա լույսի ազդեցության մասին:

6 Ինչպե՞ս կարող ես համոզվել, որ քո եզրակացությունը ճիշտ է բոլոր բույսերի համար:
